

Schulname und -logo

Platznummer (ggf. Name/Klasse): _____

ERFOLGREICHER ABSCHLUSS IM BILDUNGSGANG DES FÖRDERSCHEWERPUNKTS LERNEN (gem. § 57a Abs. 3 VSO-F)

Schuljahr 2022/23

FÄCHERVERBUND
am xx.xx.2023
von xx:xx – xx:xx Uhr (45 Minuten)

Ein deutschsprachiges Wörterbuch in Printform ist **erlaubt**.

Gesamtbewertung			Erst- korrektur	Zweit- korrektur
Teil A	Geschichte/Politik/Geographie	20 Punkte		
Teil B	BLO-Theorie	20 Punkte		
Teil C	Natur und Technik	20 Punkte		
	Summe	60 Punkte		

Note

Notenschlüssel
für den erfolgreichen Abschluss im Bildungsgang des Förderschwerpunkts Lernen

Note	1	2	3	4	5	6
Punkte	60-50	49,5-40	39,5-30	29,5-20	19,5-10	9,5-0

Erstkorrektor/in (Datum, Unterschrift) _____

Zweitkorrektor/in (Datum, Unterschrift) _____

1. Deutschland. Bearbeite die Aufgaben mit Hilfe der Karte.



© <https://www.freeworldmaps.net/de/deutschland/>

a) Nenne jeweils ein Nachbarland im Norden und Osten von Deutschland.

____/2

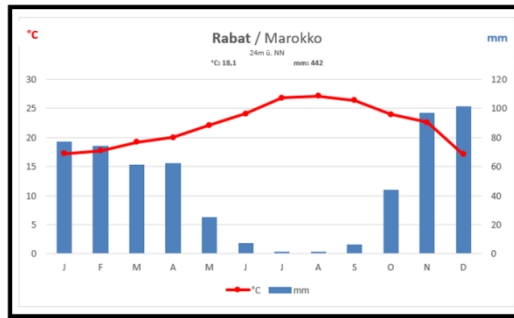
b) Ein ▲ in der Karte bedeutet, dass dort ein Berg ist. Fülle die Tabelle der höchsten Berge in Deutschland aus. Beachte das Beispiel (0).

____/2

Aufgabe	Name	Himmelsrichtung
(0)	Fichtelberg	Osten
(1)	Hohe Acht	
(2)		Süden

____ /
4 Punkte

2. Schau dir die beiden Klimadiagramme von Salo Gardasee (gemäßigte Zone) und Rabat (subtropische Zone) an.



a) Kreuze an, zu welchem Ort die Aussage passt. Beachte das Beispiel (0).

___/2

Aufg.	Aussage	Ort
(0)	Der Ort liegt 65 m über dem Meeresspiegel.	<input type="checkbox"/> Rabat <input checked="" type="checkbox"/> Salo Gardasee <input type="checkbox"/> keiner
(1)	Die Jahresdurchschnittstemperatur liegt bei 18,1 °C.	<input type="checkbox"/> Rabat <input type="checkbox"/> Salo Gardasee <input type="checkbox"/> keiner
(2)	Im Juli und August fällt kaum Niederschlag.	<input type="checkbox"/> Rabat <input type="checkbox"/> Salo Gardasee <input type="checkbox"/> keiner
(3)	Der Niederschlag beträgt im Dezember durchschnittlich ungefähr 10 mm.	<input type="checkbox"/> Rabat <input type="checkbox"/> Salo Gardasee <input type="checkbox"/> keiner
(4)	Die durchschnittliche Temperatur im Oktober beträgt 12,5°.	<input type="checkbox"/> Rabat <input type="checkbox"/> Salo Gardasee <input type="checkbox"/> keiner

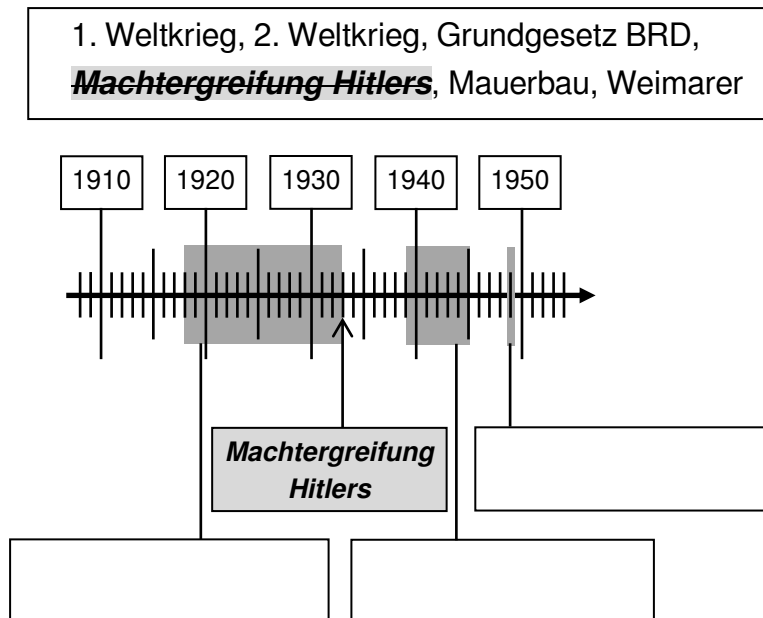
b) Lena plant mit ihrer Familie im August in den Urlaub zu fahren. Es sollte warm und möglichst trocken sein. Wohin rätst du ihr zu fahren? Begründe deine Entscheidung.

___/2

___ /
4 Punkte

3. a) Deutschland war im letzten Jahrhundert geprägt durch den Zweiten Weltkrieg. Ordne die wichtigen Ereignisse vor und während dem Nationalsozialismus den hervorgehobenen Abschnitten im Zeitstrahl zu. Zwei Begriffe sind falsch.

___/3



- b) Die Geschichte der deutschen Juden im Nationalsozialismus. Ordne die passenden Begriffe zu. Ein Begriff passt nicht.

___/4

Ausgrenzung, **Boycott**, Deportation und Vernichtung, Massenvernichtung, Integration, Plünderung und Misshandlung

Jahr	Ereignis	Beschreibung	Kurzbeschreibung
1933	Machtergreifung Hitlers	Die Nationalsozialisten fordern die Bevölkerung auf, nicht mehr bei Juden zu kaufen	Boycott
1933	Berufsbeamten-gesetz	Juden dürfen nicht mehr in öffentlichen Ämtern arbeiten	
1938	Reichspogrom-nacht	Synagogen und jüdische Geschäfte werden zerstört, erste Juden sterben und werden verletzt	
1939	Reichsbürger-gesetz	Deutsche Juden werden ab jetzt in Vernichtungslager gebracht	
1945	Ende des 2. Weltkriegs	Bis Kriegsende werden ca. 6 Millionen Juden ermordet	

___ /
7 Punkte

4. Verbinde die vier Freiheiten des EU-Binnenmarktes mit den passenden Äußerungen. Eine Äußerung passt nicht.

___/2

Freiheit des...	Äußerung
Warenverkehrs	Meine Großeltern kaufen ein Ferienhaus in Griechenland.
Dienstleistungsverkehrs	Ich fliege ohne Reisepass nach Portugal.
Kapitalverkehrs	Mein Onkel ist LKW-Fahrer und transportiert Waren aus Polen und der Slowakei nach Deutschland.
Personenverkehrs	In Österreich und der Schweiz wird auch Deutsch gesprochen.
	In Österreich kann ich mit meinem Handyvertrag ohne zusätzliche Gebühren mein Smartphone nutzen.

5. Wahlen.

a) Lies die Aussagen und kennzeichne die Sprechblasen, in denen die Wahlgrundsätze eingehalten werden.

Meine Freundin und ich gehen bei der Stimmabgabe zusammen in dieselbe Wahlkabine.

Ich darf frei entscheiden, ob ich wähle und wen ich wähle.

Auf dem Wahlzettel kreuze ich direkt den Kandidaten an, den ich wählen möchte.

Super, dieser Politiker ist mein Nachbar. Dem gebe ich gleich zwei Kreuze!

Ich wähle die Partei, weil mich mein Freund dazu zwingt.

b) „Gleich“ ist ein Wahlgrundsatz. Begründe, warum die Aussage nicht zu diesem Wahlgrundsatz passt.

Ich brauche sowieso nicht wählen, denn meine Stimme als Frau zählt ja weniger.

___ /
5 Punkte

1. Die duale Ausbildung.

a) Ordne die folgenden Begriffe aus dem jeweiligen Bereich der dualen Ausbildung durch Ankreuzen zu. Beachte das Beispiel.

____/3

Berufsschule	Berufsmerkmale	Betrieb
<input type="checkbox"/>	Lohn	<input checked="" type="checkbox"/>
<input type="checkbox"/>	Ausbildende/Ausbilder	<input type="checkbox"/>
<input type="checkbox"/>	Ferien	<input type="checkbox"/>
<input type="checkbox"/>	praktische Ausbildung	<input type="checkbox"/>
<input type="checkbox"/>	schriftliche Zwischenprüfung	<input type="checkbox"/>
<input type="checkbox"/>	Lehrkraft	<input type="checkbox"/>
<input type="checkbox"/>	Urlaub	<input type="checkbox"/>

b) Erkläre in eigenen Worten, was man unter der dualen Ausbildung versteht.

____/2

2. Berufsbild Koch: Ordne die Inhalte der entsprechenden Kategorie zu.

Kategorie
Materialien
Tätigkeiten
fachliche Anforderungen
Schlüsselqualifikationen

Inhalte
Messer
Zuverlässigkeit
Grundrechenarten beherrschen
rühren
Kenntnisse über Lebensmittel
Schneebeesen
wiegen
Körperliche Belastbarkeit

____/2

____/
7 Punkte

4. Hasan hat seine Ausbildung als Maler beendet und erhält seine erste Gehaltsabrechnung. Dort steht, wie viel Geld er verdient und wie viele Steuern und Versicherungsbeiträge er bezahlen muss. Hasan ist nicht in der Kirche und zahlt keine Kirchensteuer.

a) Trage die fehlenden Begriffe in die Gehaltsabrechnung ein. Ein Begriff ist falsch.

___/1,5

Bruttolohn • Solidaritätszuschlag • **Lohnsteuer** • Nettolohn •
Sozialversicherungen

Hasan Akcey	
	1 450,00 €
<u>Lohnsteuer</u>	47,16 €
	291,09 €
	1 111,75 €

b) Nenne drei verschiedene Sozialversicherungen.

___/1,5

1. _____
2. _____
3. _____

c) Erkläre, warum wir in Deutschland Lohnsteuer bezahlen.

___/2

___ /
5 Punkte

5. Du hast dir ein neues Handy gekauft und heute die Rechnung erhalten.

a) Fülle das Online-Überweisungsformular aus.

___/2

Online-Handy GmbH IBAN: DE20 1248 0021 1978 1265 00 BIC: DEBLKDS6MUC Kreditinstitut: Deutsche Bank	Bitte immer als Verwendungszweck angeben!
Rechnung: 101231 ← Kunden-Nr.: 564	
Lieferung Handy, inkl. Versand: 340,50 €	

Überweisung vom eigenen Konto	Kontostand: 351,74 €
Empfänger	<input type="text"/>
IBAN	<input type="text"/>
Kreditinstitut	Wird automatisch eingetragen
Betrag in EUR	<input type="text"/>
Verwendungszweck	<input type="text"/>

b) Nach der Überweisung hast du auf deinem Konto fast kein Geld mehr. Du hast dich trotzdem bewusst gegen einen Ratenkauf entschieden. Nenne zwei Nachteile des Ratenkaufs und begründe die Entscheidung.

___/2

___ /
4 Punkte

1. In deinem Wohnort fällt der Strom aus.

a) Was passiert bei dir zuhause, außer dass das Licht ausgeht?
 Markiere im Bild vier Geräte, die bei Stromausfall nicht mehr funktionieren.

____/2



Foto: iStock.com/elenabs

b) Du möchtest in Zukunft sparsamer mit Strom umgehen. Was kannst du tun? Nenne deine drei persönlichen Stromspartipps.

____/3

1. _____
2. _____
3. _____

____ /
 5 Punkte

2. Betrachte das Bild und beantworte die Fragen.



Foto: iStock.com/TatianaDanilova

Der Wortspeicher kann dir bei der Beantwortung der Fragen nützlich sein:

Brennpunkt - Entzündungstemperatur - Brennstoff - Sonne -
entzünden - Sauerstoff

a) Was passiert bei dem hellen Fleck auf dem Ast? Erkläre mit Hilfe der Wörter im Wortspeicher.

___/2

b) Stelle die Gefahr dar, wenn Glasflaschen in der Natur liegen gelassen werden.

___/1

___/
3 Punkte

3. Unser Leben ist von Energie bestimmt.

a) Ordne folgende Energiequellen richtig in die Tabelle ein.

___/3

Wasserkraft, Erdgas, Sonnenenergie, Windkraft, Kohle, Erdöl

Fossile Energieträger	Regenerative Energieträger


b) Der Bürgermeister deiner Stadt regt an, einen Windpark in der Nähe deines Wohnhauses zu errichten. In deiner Familie diskutiert ihr die Vor- und Nachteile von Windenergie. Nenne je einen Vor- und einen Nachteil dieser Energieform.

___/2

Vorteil	Nachteil

___/
5 Punkte

4. Das kleine Mädchen sitzt am hinteren Ende der Wippe.




a) Wo muss sich das größere und schwerere Mädchen hinsetzen, damit beide Kinder wippen können? Markiere die Stelle im Bild und erkläre deine Entscheidung.

___/2

b) Hebel erleichtern uns das alltägliche Leben. Bei welchen Werkzeugen wird die Hebelwirkung genutzt? Kreise ein.

___/1



___ /
3 Punkte

5. Jeder Mensch durchläuft verschiedene Phasen in seiner Entwicklung. Eine spezielle Phase ist die der Pubertät.

a) Welche Aussagen über die Pubertät treffen zu? Kreuze an.

___/2

- Bei Mädchen und Jungen wachsen Scham- und Achselhaare.
- Bei den Mädchen wächst der Bart.
- Die Schweißdrüsen werden aktiver.
- Bei Jungen wachsen die Brüste.

b) Hygiene wird in der Pubertät immer wichtiger. Erkläre zwei sinnvolle Maßnahmen der Körperhygiene.

___/2

___/
4 Punkte